

4. b kategorija  
4. b kategorija

grupa A




Drniš, 26. i 27. travnja 2025

Ime i prezime: \_\_\_\_\_

1. Napiši predznake zadanih tonaliteta u violinskom i bas ključu:

12 bodova



d mol

Adur

g mol

D dur

c mol

E dur

2. a) Prepoznaaj i napiši zadane tonove (abecedom):

12 bodova



\_\_\_\_\_

\_\_\_\_\_

\_\_\_\_\_


\_\_\_\_\_

\_\_\_\_\_

\_\_\_\_\_

b) Napiši zadane tonove:

12 bodova



cis1

A

f2

g

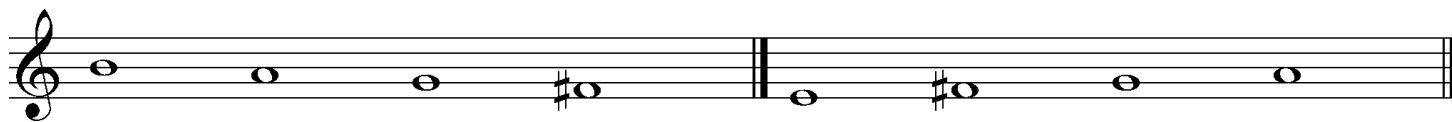
e2

b1

#### 4. b kategorija

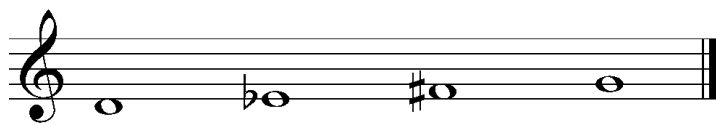
3. a) Prepoznavaj i napiši vrstu zadanog tetrakorda:

10 bodova



\_\_\_\_\_

\_\_\_\_\_



\_\_\_\_\_

b) Napiši zadani tetrakord uzlazno:



durski

molski

4. Izgradi zadane kvintakorde uzlazno:

18 bodova



D<sup>5</sup><sub>3</sub>

S<sup>5</sup><sub>3</sub>

M<sup>5</sup><sub>3</sub>

P<sup>5</sup><sub>3</sub>

D<sup>5</sup><sub>3</sub>

M<sup>5</sup><sub>3</sub>

#### 4. b kategorija

5.a) Prepozna i odredi veličinu i vrstu zadanih intervala:

12 bodova



\_\_\_\_\_

b) Izgradi intervale uzlazno na zadanom tonu:

12 bodova



m.2

p.4

v.3


č.5

v.6

m.7

6. U melodijskom primjeru dopuni taktove odgovarajućim notnim vrijednostima ili pauzama, tako da zapis odgovara mjeri:

12 bodova



\_\_\_\_\_od ukupno 100 bodova

Članovi ocjenjivačkog suda:

1. \_\_\_\_\_

2. \_\_\_\_\_

3. \_\_\_\_\_